

دفترچه

شماره

۲

دفترچه شماره ۲

صبح جمعه

۱۴۰۴/۰۴/۲۷



جمهوری اسلامی ایران
وزارت علوم، تحقیقات و فناوری
سازمان سنجش آموزش کشور

در زمینه مسائل علمی باید دنبال قله بود.
مقام معلّم رهبری

آزمون اختصاصی (سراسری) ورودی دانشگاهها و مؤسسات آموزش عالی - نوبت دوم سال ۱۴۰۴

گروه آزمایشی علوم تجربی

| تعداد سوالات : ۶۵ - مدت زمان پاسخ‌گویی : ۷۵ دقیقه | | | | | |
|---|--------------|------------|----------|----------|----------------|
| ردیف | ماده امتحانی | تعداد سؤال | از شماره | تا شماره | زمان پاسخ‌گویی |
| ۱ | فیزیک | ۳۰ | ۴۴ | ۷۵ | ۴۰ دقیقه |
| ۲ | شیمی | ۳۵ | ۷۶ | ۱۱۰ | ۳۵ دقیقه |

استفاده از ماشین حساب ممنوع است

این آزمون نمره منفی دارد

حل چاپ‌نکته و انتشار سؤالات به هر روش (الکترونیکی و ...) پس از برگزاری آزمون، برای تمامی اشخاص حقوقی و حقوقی تنها با مجوز این سازمان مجاز می‌باشد و یا منتظرین بر اثر مقررات رفتار می‌شود

* داوطلب گرامی، عدم درج مشخصات و امضا در مندرجات جدول زیر، به منزله عدم حضور شما در جلسه آزمون است.

اینجانب با شماره داوطلبی با آگاهی کامل، یکسان بودن شماره صندلی خود را با شماره داوطلبی مندرج در بالای کارت ورود به جلسه، بالای پاسخنامه و دفترچه سؤالات، نوع و کد کنترل درج شده بر روی دفترچه سؤالات تأیید می‌نمایم.

امضا:

۴۶- از کدام دماسنج، بدون تماس دماسنج با جسمی که می‌خواهیم دمای آن را اندازه بگیریم، استفاده می‌شود؟

- (۱) ترموکوپل
 (۲) تفسنج
 (۳) دماسنج جیوه‌ای
 (۴) دماسنج مقاومت پلاتینی

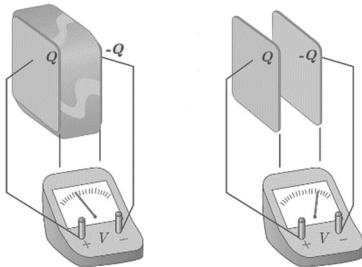
۴۷- نسبت انرژی فوتونی با طول موج ۴۰۰ nm به انرژی فوتونی با طول موج ۶۰۰ nm کدام است؟

- (۱) ۰٫۴۴
 (۲) ۰٫۶۷
 (۳) ۱٫۵۰
 (۴) ۲٫۲۵

۴۸- یک چشمه صوت ساکن است و شنونده‌ای در حال دور شدن از آن است. کدام مورد در مقایسه با حالتی که این دو نسبت به هم ساکن‌اند، درست است؟

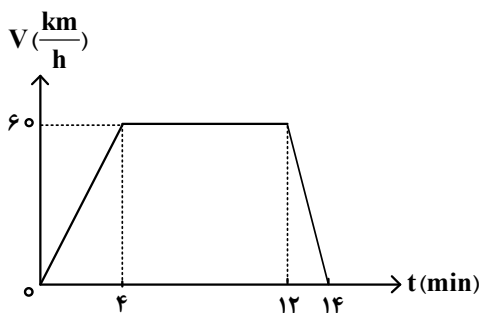
- (۱) بسامدی که شنونده می‌شنود کاهش می‌یابد و طول موج دریافتی توسط شنونده ثابت می‌ماند.
 (۲) بسامدی که شنونده می‌شنود افزایش می‌یابد و طول موج دریافتی توسط شنونده ثابت می‌ماند.
 (۳) بسامدی که شنونده می‌شنود کاهش می‌یابد و طول موج دریافتی توسط شنونده کوتاه‌تر می‌شود.
 (۴) بسامدی که شنونده می‌شنود افزایش می‌یابد و طول موج دریافتی توسط شنونده بلندتر می‌شود.

۴۹- در شکل زیر، صفحه‌های باردار یک خازن تخت را که بین آنها هوا است، به ولت‌سنج وصل می‌کنیم، اگر دی‌الکتریک در بین صفحات قرار دهیم، کدام مورد درست است؟



- (۱) انرژی ذخیره‌شده بین صفحه‌های خازن افزایش می‌یابد.
 (۲) انرژی ذخیره‌شده بین صفحه‌های خازن ثابت می‌ماند.
 (۳) بار روی صفحه‌های خازن افزایش می‌یابد.
 (۴) بار روی صفحه‌های خازن ثابت می‌ماند.

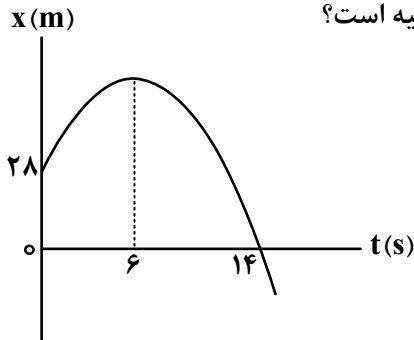
۵۰- متحرکی بر روی مسیر مستقیم حرکت می‌کند. نمودار سرعت - زمان این متحرک مطابق شکل زیر است. این متحرک در مدت ۱۳ دقیقه چند کیلومتر طی می‌کند؟



- (۱) ۹٫۵
 (۲) ۱۰٫۷۵
 (۳) ۱۱٫۵
 (۴) ۱۲٫۲۵

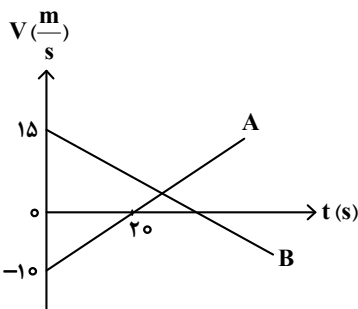
- ۵۱- متحرکی در لحظه $t_1 = 0s$ روی محور x از حال سکون، با شتاب ثابت، شروع به حرکت می‌کند. اگر در بازه زمانی $t_1 = 0s$ تا $t_2 = 12s$ ، مسافت $216m$ را طی کند، در کدام بازه زمانی داده شده بر حسب ثانیه، مسافت 36 متر را طی می‌کند؟
- (۱) ۷ تا ۹ (۲) ۶ تا ۸ (۳) ۵ تا ۷ (۴) ۴ تا ۶

- ۵۲- نمودار مکان - زمان متحرکی که با شتاب ثابت حرکت می‌کند، مطابق شکل زیر است. بزرگی سرعت متوسط متحرک در بازه زمانی که بردار مکان متحرک در جهت محور x است، چند متر بر ثانیه است؟



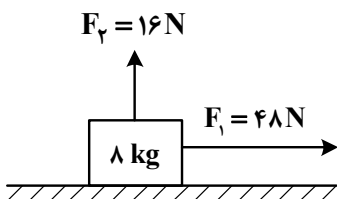
- (۱) $\frac{23}{7}$
 (۲) $\frac{2}{7}$
 (۳) ۲
 (۴) ۱۴

- ۵۳- نمودار سرعت - زمان دو متحرک A و B که روی محور x حرکت می‌کنند، مطابق شکل زیر است. مکان دو متحرک در لحظه $t = 0s$ به صورت $\vec{x}_{o_A} = (-100m)\vec{i}$ و $\vec{x}_{o_B} = (100m)\vec{i}$ است. اگر در لحظه‌ای که متحرک B تغییر جهت می‌دهد، متحرک A در مکان $\vec{x} = (-175m)\vec{i}$ باشد، فاصله دو متحرک در این لحظه چند متر است؟



- (۱) ۵۲۵
 (۲) ۵۰۰
 (۳) ۴۰۰
 (۴) ۲۰۰

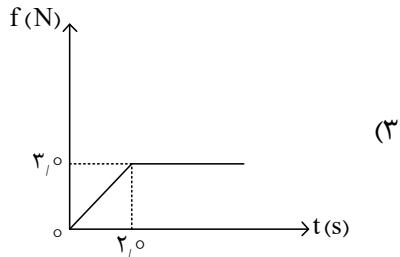
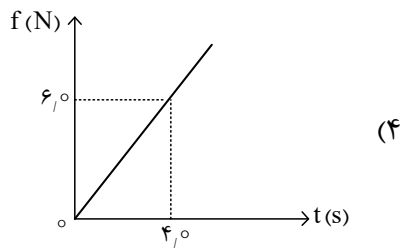
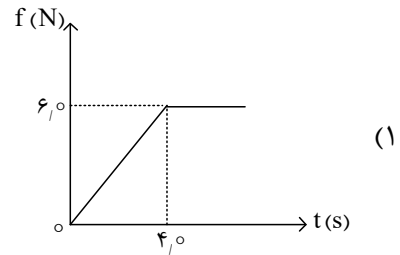
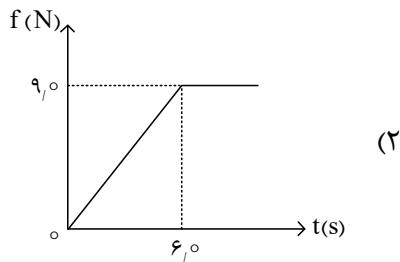
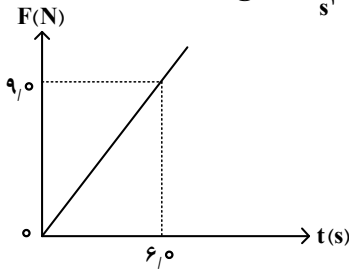
- ۵۴- مطابق شکل زیر، جسمی با سرعت ثابت روی سطح افقی در حال حرکت است. نیروی \vec{F}_1 موازی سطح و نیروی \vec{F}_2 عمود بر سطح به جسم وارد می‌شود. اگر نیروی \vec{F}_2 را $16N$ افزایش دهیم، کدام مورد راجع به نیرویی که سطح به



جسم وارد می‌کند، درست است؟

- (۱) بزرگی آن ثابت می‌ماند.
 (۲) بزرگی آن افزایش می‌یابد.
 (۳) زاویه‌ای که با نیروی F_1 می‌سازد، کاهش می‌یابد.
 (۴) زاویه‌ای که با نیروی F_1 می‌سازد، تغییر نمی‌کند.

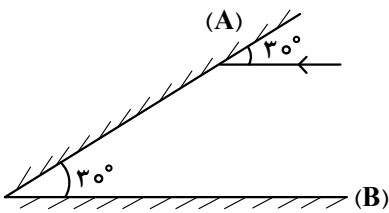
۵۵- جسمی به جرم 3 kg بر روی یک سطح افقی قرار دارد. ضریب اصطکاک بین جسم و سطح برابر با 0.2 است. یک نیروی افقی متغیر با زمان، مطابق نمودار زیر، به جسم وارد می‌شود. نمودار نیروی اصطکاک بر حسب زمان کدام است؟ (ضریب اصطکاک جنبشی و ضریب اصطکاک ایستایی یکسان فرض شود و $g = 10 \frac{\text{m}}{\text{s}^2}$)



۵۶- شعاع سیاره‌ای دو برابر شعاع زمین و جرم آن نیز دو برابر جرم زمین است. وزن یک جسم یک کیلوگرمی بر روی این سیاره چند برابر وزن جسم یک کیلوگرمی روی زمین است؟

- (۱) $\frac{3}{2}$ (۲) $\frac{1}{2}$ (۳) ۱ (۴) ۲

۵۷- در شکل زیر، پرتو نوری با زاویه 30° به آینه (A) می‌تابد و پس از بازتاب به آینه (B) می‌تابد. زاویه تابش در دومین برخورد به آینه (A) چند درجه است؟



- (۱) ۹۰
(۲) ۶۰
(۳) ۳۰
(۴) صفر

۵۸- جسمی به جرم 2.0 kg به فنری با ثابت $2.0 \frac{\text{N}}{\text{cm}}$ متصل است و در راستای افقی با دامنه 8.0 cm نوسان می‌کند. وقتی تندی جسم $40 \frac{\text{cm}}{\text{s}}$ است، انرژی پتانسیل کشسانی آن چند ژول است؟ (از نیروهای اتلافی چشم‌پوشی شود.)

- (۱) ۰٫۴۸ (۲) ۰٫۳۲ (۳) ۰٫۱۶ (۴) ۰٫۶۴

۵۹- ذره‌ای حرکت نوسانی ساده با دامنه 7 mm انجام می‌دهد. اگر بیشترین تندی این ذره $4.4 \frac{\text{m}}{\text{s}}$ باشد، دوره تناوب

حرکت کدام است؟ $(\pi = \frac{22}{7})$

- (۱) 0.12 (۲) 0.11 (۳) 0.02 (۴) 0.01

۶۰- یک نوسان‌ساز، موج‌هایی دوره‌ای در یک ریسمان کشیده شده ایجاد می‌کند، اگر کشش ریسمان را افزایش دهیم، «تندی موج»، «دوره تناوب موج» و «طول موج»، به ترتیب، چه تغییری می‌کنند؟

- (۱) افزایش می‌یابد، ثابت می‌ماند و کاهش می‌یابد. (۲) کاهش می‌یابد، افزایش می‌یابد و ثابت می‌ماند.
 (۳) افزایش می‌یابد، ثابت می‌ماند و افزایش می‌یابد. (۴) ثابت می‌ماند، کاهش می‌یابد و افزایش می‌یابد.

۶۱- توان باریکه نور خروجی یک لیزر گازی 663 mW است. اگر طول موج این باریکه 600 nm باشد، تعداد فوتون‌هایی

که در هر دقیقه از این لیزر گسیل می‌شود، چقدر است؟ $(h = 6.63 \times 10^{-34} \text{ J.s}$ و $c = 3 \times 10^8 \frac{\text{m}}{\text{s}}$)

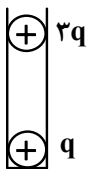
- (۱) 2×10^{20} (۲) 1.2×10^{20} (۳) 2×10^{18} (۴) 1.2×10^{18}

۶۲- اگر λ_1 بلندترین و λ_2 کوتاه‌ترین طول موج در رشته پفوند ($n' = 5$) در اتم هیدروژن باشند، نسبت $\frac{\lambda_1}{\lambda_2}$ کدام است؟

- (۱) $\frac{36}{11}$ (۲) $\frac{36}{13}$ (۳) $\frac{900}{115}$ (۴) $\frac{900}{215}$

۶۳- در شکل زیر، دو گوی باردار که جرم هر یک $7.5 \mu\text{g}$ است در فاصله 3 cm از هم قرار دارند، به طوری که گوی بالایی

معلق مانده است. تعداد الکترون‌های کنده شده از گوی بالایی چقدر است؟ $(g = 10 \frac{\text{m}}{\text{s}^2}$ و $k = 9 \times 10^9 \frac{\text{N.m}^2}{\text{C}^2}$)



(۱) 3.125×10^{10}

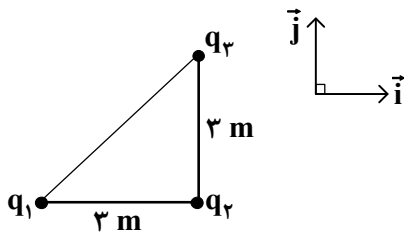
(۲) 9.375×10^8

(۳) 3.125×10^8

(۴) 9.375×10^{10}

۶۴- سه ذره باردار مطابق شکل زیر، در سه رأس مثلث قائم‌الزاویه‌ای ثابت شده‌اند. اگر نیروی الکتریکی خالص وارد بر

بار q_2 در SI، $\vec{F}_T = 8 \times 10^{-3} \vec{i} + 6 \times 10^{-3} \vec{j}$ باشد، $\frac{q_2}{q_1}$ کدام است؟ $(k = 9 \times 10^9 \frac{\text{N.m}^2}{\text{C}^2})$



(۲) $-\frac{3}{4}$

(۱) $-\frac{3}{2}$

(۴) $\frac{3}{4}$

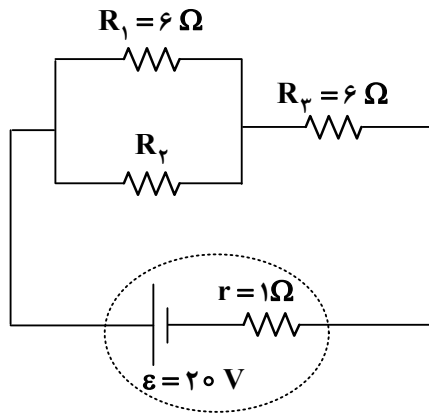
(۳) $\frac{3}{2}$

۶۵- دو میله فلزی A و B، طول و مقاومت الکتریکی یکسانی دارند. اگر مقاومت ویژه میله A، دو برابر مقاومت ویژه میله B باشد و چگالی آن، ۳ برابر چگالی میله B باشد، جرم میله A چند برابر جرم میله B است؟

- (۱) $\frac{1}{6}$ (۲) $\frac{2}{3}$ (۳) $\frac{3}{2}$ (۴) ۶

۶۶- در مدار زیر، مقاومت معادل $R_{eq} = 9 \Omega$ است. اگر جای مقاومت R_p و باتری عوض شود، توان مصرفی در مقاومت

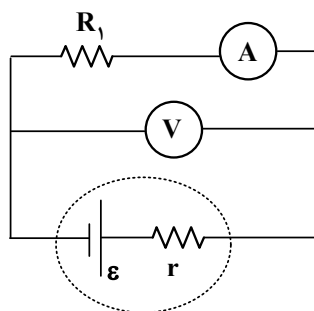
R_p چند وات تغییر می‌کند؟



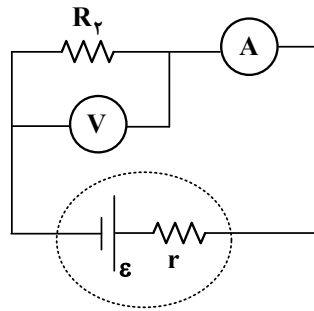
- (۱) ۱۸
(۲) ۶
(۳) $\frac{14}{3}$
(۴) صفر

۶۷- در مدارهای شکل زیر، مقاومت آمپرسنج و ولت‌سنج، به ترتیب، 5Ω و 180Ω است. اگر در مدار «الف» آمپرسنج $1/6 A$ و ولت‌سنج $72 V$ را نشان دهد و در مدار «ب» آمپرسنج $0.82 A$ و ولت‌سنج $73.8 V$ را نشان دهد، R_1

و R_p چند اهم هستند؟



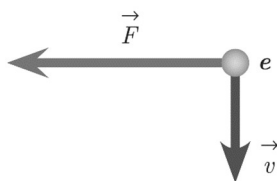
«الف»



«ب»

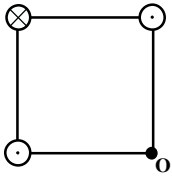
- (۱) ۹۰ و ۴۰
(۲) ۹۰ و ۵۰
(۳) ۱۸۰ و ۴۰
(۴) ۱۸۰ و ۵۰

۶۸- الکترونی عمود بر میدان مغناطیسی یکنواختی در حرکت است. با توجه به شکل زیر، جهت میدان مغناطیسی کدام است؟



- (۱) درون‌سو
(۲) برون‌سو
(۳) راست
(۴) بالا

۶۹- سه سیم راست موازی و بسیار بلند، حامل جریان‌های مساوی، در سه رأس یک مربع قرار دارند. میدان مغناطیسی خالص در رأس چهارم (نقطه O) به کدام سو است؟



۷۰- پیچ‌های شامل ۲۰۰ دور سیم که مساحت هر حلقه آن 50 cm^2 است، عمود بر میدان مغناطیسی یکنواختی قرار دارد. در مدت 2 ms اندازه میدان از 0.5 T به 0.45 T کاهش می‌یابد. اگر مقاومت پیچه 20Ω باشد، جریان القایی متوسط که از پیچه می‌گذرد، چند آمپر است؟

- (۱) ۲٫۵ (۲) ۱٫۵ (۳) ۱٫۲۵ (۴) ۰٫۵

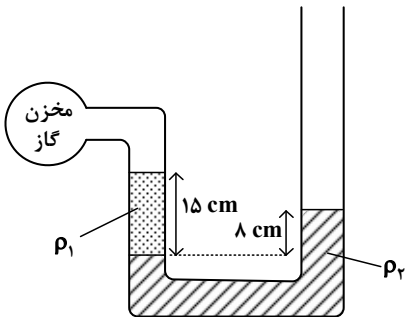
۷۱- یک پوسته کروی به شعاع داخلی a و شعاع خارجی $b = 2a$ از ماده‌ای با چگالی $\rho = \frac{30}{7\pi} \frac{\text{g}}{\text{cm}^3}$ ساخته شده است.

اگر جرم این پوسته $m = 4.0 \times 10^{-2} \text{ kg}$ باشد، a چند سانتی‌متر است؟

- (۱) ۲٫۰ (۲) ۱٫۸ (۳) ۱٫۲ (۴) ۱٫۰

۷۲- مطابق شکل، درون لوله U شکلی که به یک مخزن گاز وصل شده است، دو مایع با چگالی‌های $\rho_1 = 1.2 \frac{\text{g}}{\text{cm}^3}$ و

$\rho_2 = 1.57 \frac{\text{g}}{\text{cm}^3}$ وجود دارد. فشار پیمانه‌ای مخزن گاز چند میلی‌متر جیوه است؟ ($\rho_{\text{جیوه}} = 13.6 \frac{\text{g}}{\text{cm}^3}$)

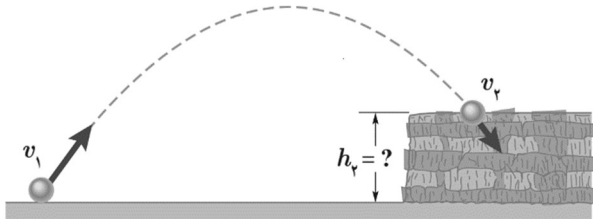


- (۱) -۴
(۲) -۲٫۵
(۳) -۲۵
(۴) -۴۰

۷۳- از بالونی که در ارتفاع ۱۰۰ متری زمین و با تندی $5 \frac{m}{s}$ در پرواز است، بسته‌ای به جرم 20 kg رها می‌شود و با تندی $25 \frac{m}{s}$ به زمین برخورد می‌کند. کار کل انجام‌شده بر روی بسته، از لحظه رها شدن تا رسیدن به زمین، چند کیلوژول است؟ ($g = 10 \frac{m}{s^2}$)

- (۱) ۱۲ (۲) ۶ (۳) -۶ (۴) -۱۲

۷۴- تویی مطابق شکل از سطح زمین با تندی $20 \frac{m}{s}$ به طرف صخره‌ای پرتاب می‌شود. اگر توپ با تندی $12 \frac{m}{s}$ به بالای صخره برخورد کند، ارتفاع h_p چند متر است؟ (مقاومت هوا ناچیز فرض شود و $g = 10 \frac{m}{s^2}$)



- (۱) ۴۰ (۲) ۲۵٫۶ (۳) ۲۰ (۴) ۱۲٫۸

۷۵- 4 kg آب را درون یک کتری برقی با توان الکتریکی 2 kW می‌ریزیم و آن را روشن می‌کنیم. از شروع جوشیدن تا تبخیر همه آب درون کتری، این فرایند چند دقیقه طول می‌کشد؟ (فرض کنید تمام انرژی الکتریکی تبدیل شده به انرژی گرمایی، به آب می‌رسد. $L_V = 2256 \frac{kJ}{kg}$)

- (۱) ۷۵٫۲ (۲) ۳۷٫۶ (۳) ۷٫۵۲ (۴) ۳٫۷۶

۷۶- عنصر با گرفتن یا از دست دادن الکترون، به آرایش الکترونی گاز نجیب هم‌دوره خود می‌رسد.

(۱) Y ، ۲ ، ۳۴ (۲) D ، ۳ ، ۳۱ (۳) M ، ۳ ، ۲۱ (۴) Z ، ۴ ، ۳۲

۷۷- کدام موارد درباره «جدول تناوبی عناصرها» درست است؟

الف - تفاوت عدد اتمی قوی‌ترین نافلز گروه ۱۶ و قوی‌ترین فلز دوره دوم، برابر ۶ است.

ب - تفاوت عدد اتمی قوی‌ترین نافلز جامد دوره سوم و نخستین عنصر واسطه دوره چهارم، برابر ۵ است.

ج - شمار عنصرهای میان نخستین شبه‌فلز گروه ۱۴ و دومین نافلز دوره سوم، برابر عدد اتمی یک گاز نجیب جدول است.

د - مجموع اعداد کوانتومی اصلی و فرعی الکترون‌های ظرفیت نافلز مایع دوره چهارم، برابر با عدد اتمی یکی از عنصرهای گروه ۱۵ است.

(۱) «الف» و «ب» (۲) «الف» و «ج» (۳) «ب» و «د» (۴) «ج» و «د»

۷۸- اتم عنصر A ، دارای ۱۲ الکترون در زیرلایه p است. اگر بیرونی‌ترین زیرلایه آن، ns^2 باشد، کدام مورد درباره این عنصر، نادرست است؟

(۱) محلول نمک‌های آن با عددهای اکسایش مختلف، می‌تواند رنگی باشد.

(۲) در اتم آن، شمار الکترون‌های $l = 0$ ، می‌تواند با شمار الکترون‌های $l = 2$ ، برابر باشد.

(۳) فرمول شیمیایی ترکیب حاصل از واکنش آن با کلر، می‌تواند XCl_3 یا XCl_4 ، باشد.

(۴) در اتم آن، شمار الکترون‌های $l = 0$ ، می‌تواند دو برابر شمار الکترون‌های $l = 2$ ، باشد.

۷۹- کدام مورد درست است؟ ($Na = 23, Al = 27, Ar = 40, Ca = 40 \text{ g.mol}^{-1}$)

(۱) با توجه به جایگاه عناصر در جدول، جرم یک مول Zn^{2+} ، می‌تواند با تقریب خوبی، برابر با جرم یک مول Cu^+ باشد.

(۲) جرم یک مول اتم روبیدیم، با تقریب خوبی، برابر با جرم یک مول از یون پایدار آن است.

(۳) شمار اتم‌ها در یک مول سدیم، 0.575 برابر شمار اتم‌ها در یک مول کلسیم است.

(۴) جرم 1.5 مول گاز آرگون، بیشتر از جرم 1.8×10^{24} اتم آلومینیم است.

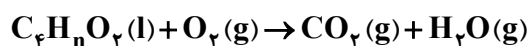
۸۰- اگر میانگین دمای هوای یک منطقه از سطح زمین، برابر $24^\circ C$ باشد، در چه ارتفاعی با یکای کیلومتر، دمای هوا

نسبت به سطح زمین، ۸۰ درصد کاهش می‌یابد؟ (دمای هوا به ازای هر کیلومتر ارتفاع، $6^\circ C$ کاهش می‌یابد.)

(۱) 1.6 (۲) 6.4 (۳) 4.8 (۴) 3.2

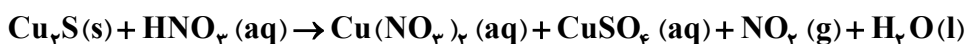
۸۱- اگر 0.3 مول از ترکیبی با فرمول شیمیایی $C_4H_nO_2$ با 48 گرم گاز اکسیژن (مطابق معادله زیر) واکنش کامل

دهد، این ترکیب چند اتم هیدروژن دارد؟ (معادله واکنش موازنه شود، $O = 16 \text{ g.mol}^{-1}$)



(۱) 4 (۲) 6 (۳) 8 (۴) 10

۸۲- درباره واکنش داده شده، پس از موازنه معادله آن، کدام مورد درست است؟



- ۱) ضریب استوکیومتری فراورده گازی با ضریب استوکیومتری اسید، برابر است.
 ۲) به ازای مصرف ۰٫۷۵ مول نمک، ۱۲۰ گرم نمک دارای سولفات، تشکیل می شود.
 ۳) در این واکنش، تغییر عدد اکسایش مس، برابر با تغییر عدد اکسایش هیدروژن است.
 ۴) اگر ۰٫۳۲ مول فراورده غیرگازی تشکیل شود، ۴٫۶ گرم واکنش دهنده جامد مصرف شده است.
- ۸۳- درباره ویژگی های مولکول های آمونیاک، کلروفرم، دی متیل اتر و هگزان، کدام موارد زیر درست است؟
- الف - گشتاور دوقطبی تنها یک مولکول، برابر صفر است.
 ب - در دمای اتاق، حالت فیزیکی تنها دو ماده، مایع است.
 ج - اتم های جانبی در مولکول های آمونیاک و کلروفرم، بار جزئی منفی دارند.
 د - در یک مولکول، قوی ترین نیروی جاذبه بین مولکولی، به وجود هیدروژن در ساختار آن وابسته است.

۱) «الف» و «ب» ۲) «الف» و «ج» ۳) «ب» و «د» ۴) «ج» و «د»

۸۴- اگر در دمای معین، درصد جرمی محلول سیرشده از یک نمک، برابر ۲۰ باشد، در ۲۰۰ گرم آب مقطر، چند گرم از این نمک حل می شود و انحلال پذیری آن در این دما، چند گرم در ۱۰۰ گرم آب است؟

۱) ۲۵ و ۵۰ ۲) ۴۰ و ۲۰ ۳) ۴۰ و ۲۵ ۴) ۵۰ و ۲۰

۸۵- مخلوطی از دو ماده A و D در یک لوله آزمایش، به شدت هم زده و سپس هم زدن آنها متوقف می شود. A و D از یکدیگر جدا شده و دو لایه مجزا تشکیل می دهند. اگر D در انتهای لوله و A، روی آن جای داشته باشد، کدام مورد درست است؟

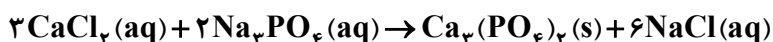
۱) A می تواند یک محلول و D، حلال خالص آن باشد.

۲) A و D می توانند دو حالت فیزیکی متفاوت باشند.

۳) A و D می توانند دو محلول آبی با حل شونده های متفاوت باشند.

۴) اگر جرم A و D، برابر باشد، حجم A به یقین، کمتر از حجم D است.

۸۶- اگر ۸۰۰ میلی لیتر محلول کلسیم کلرید، در واکنش کامل با ۱۲۰۰ میلی لیتر محلول Na_3PO_4 ، ۰٫۷۲ مول سدیم کلرید تشکیل دهد، مجموع غلظت مولی یون ها در محلول آغازی کلسیم کلرید، کدام است؟



۱) ۲٫۷۰ ۲) ۰٫۵۴ ۳) ۰٫۲۷ ۴) ۱٫۳۵

۸۷- فرمول مولکولی یک ترکیب آلی غیرحلقوی، مشابه فرمول مولکولی «هگزن» است. کدام مورد دربارهٔ ویژگی ساختاری این ترکیب، به یقین درست است؟

(۱) شمار پیوندهای دوگانه در زنجیرهٔ کربنی مولکول آن، برابر یک است.

(۲) شمار شاخه‌های فرعی در زنجیرهٔ کربنی مولکول آن، برابر صفر است.

(۳) شمار پیوندهای یگانهٔ کربن - کربن در زنجیرهٔ کربنی، نصف شمار اتم‌های هیدروژن در مولکول آن است.

(۴) شمار پیوندهای کربن - هیدروژن در زنجیرهٔ کربنی، دو برابر شمار پیوندهای یگانهٔ کربن - کربن در مولکول آن است.

۸۸- اگر درصد خلوص نوعی چربی و زغال‌سنگ، به ترتیب، برابر ۸۰ و ۵۰ در نظر گرفته شود، جرم زغال‌سنگ، چند برابر جرم چربی باشد تا گرمای تولیدشده از سوختن چربی، دو برابر گرمای تولیدشده از سوختن زغال‌سنگ شود؟ (ارزش سوختی چربی و زغال‌سنگ، به ترتیب برابر ۳۹ و ۳۰ کیلوژول بر گرم است و ناخالصی‌ها، گرما آزاد نمی‌کنند.)

(۱) ۰٫۵۲ (۲) ۰٫۲۶ (۳) ۲٫۰۸ (۴) ۱٫۰۴

۸۹- با توجه به ویژگی‌های عنصرهای «نقره، مس، پتاسیم و روی» کدام مقایسه دربارهٔ آنها درست است؟

(۱) کمترین تمایل برای تبدیل شدن به کاتیون: Cu (۲) آسان‌ترین نگهداری در شرایط یکسان: Zn

(۳) دشوارترین استخراج: K (۴) پایدارترین ترکیب‌ها: Ag

۹۰- در یک ظرف دو لیتری، ۳۲ گرم مخلوط متان و پروپین با مقدار کافی گاز هیدروژن واکنش می‌دهند تا فراورده(های) سیرشده تشکیل شود. اگر افزایش جرم مخلوط هیدروکربن‌ها، حداکثر برابر ۷٫۵ درصد جرم آغازی آنها باشد،

غلظت مولی آغازی گاز متان در ظرف واکنش، کدام بوده است؟ ($H = 1, C = 12: g.mol^{-1}$)

(۱) ۰٫۵۰ (۲) ۰٫۲۵ (۳) ۰٫۱۰ (۴) ۰٫۰۵

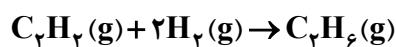
۹۱- نسبت جرم اتم‌های کربن به جرم اتم‌های هیدروژن، در کدام دو گروه از ترکیب‌های آلی، با افزایش شمار اتم‌های کربن ثابت می‌ماند؟

(۱) آمین‌ها و آمیدها (۲) سیکلوآلکان‌ها و آمیدها

(۳) آلکن‌ها و آمین‌ها (۴) آلکن‌ها و سیکلوآلکان‌ها

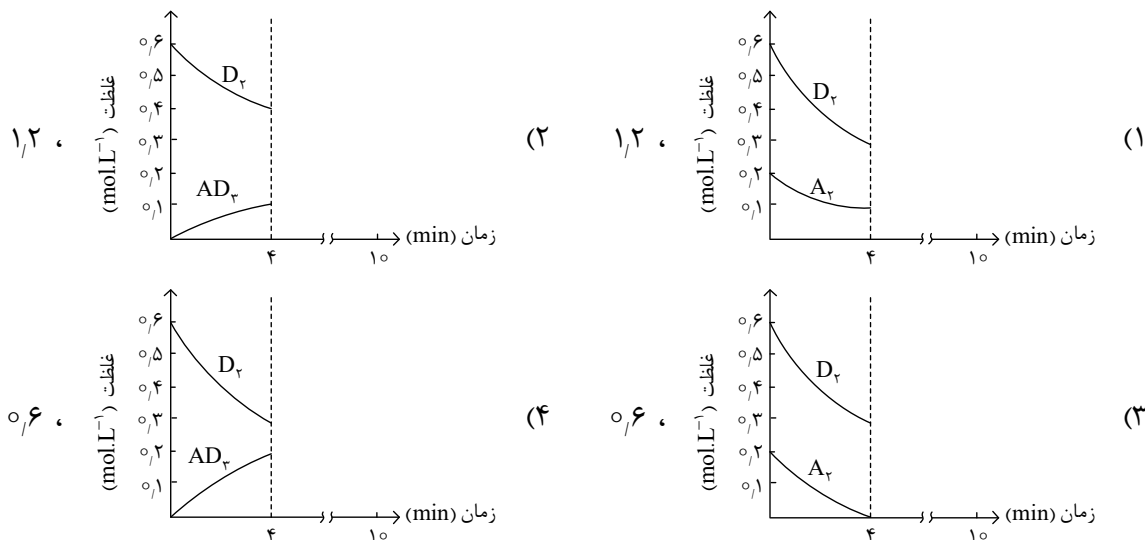
۹۲- گرمای آزادشده از چگالش ۳ مول کربن دی‌اکسید با گرمای حاصل از واکنش چند گرم اتین با مقدار کافی گاز هیدروژن، برابر است؟ (میانگین آنتالپی پیوند $C \equiv C$ ، $C - C$ و $C - H$ ، به ترتیب برابر ۸۴۰، ۳۵۰ و ۴۱۵ و

آنتالپی پیوند $H - H$ ، برابر ۴۳۵ کیلوژول بر مول در نظر گرفته شود، $H = 1, C = 12: g.mol^{-1}$)



(۱) ۱۳٫۰۰ (۲) ۳٫۲۵ (۳) ۶٫۵۰ (۴) ۹٫۷۵

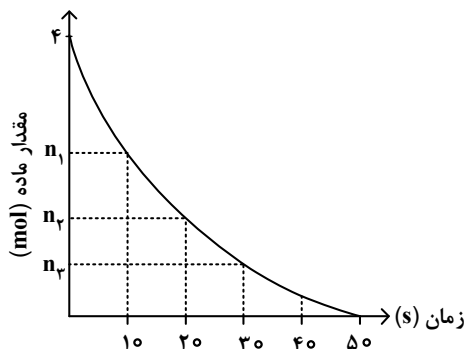
۹۳- گازهای A_p و D_p ، به ترتیب با غلظت مولی 0.2 و 0.6 وارد ظرف 2 لیتری در بسته می‌شود. اگر واکنش: $A_p(g) + D_p(g) \rightarrow AD_p(g)$ در مدت 10 دقیقه کامل شود، کدام نمودار (غلظت - زمان) برای 4 دقیقه آغازی این واکنش، می‌تواند درست باشد و پس از 4 دقیقه، با توجه به نمودار، چند مول گاز در ظرف وجود خواهد داشت؟ (واکنش در بازه زمانی گفته شده، یک طرفه در نظر گرفته و معادله آن، موازنه شود.)



۹۴- درباره نمودار «مول - زمان» برای اجزای شرکت کننده در واکنش‌های شیمیایی گازی، کدام مورد همواره درست است؟
 (۱) اگر برای ماده A ، شیب نمودار در گستره زمانی t_1 تا t_2 ($t_2 > t_1$)، برابر صفر باشد، واکنش به تعادل رسیده است و مقدار مول A ، ثابت باقی می‌ماند.
 (۲) اگر سرعت واکنش، برابر با $\frac{\Delta n}{\Delta t}$ برای ماده A باشد، A فراورده واکنش است و ضریب استوکیومتری آن در معادله واکنش، برابر یک است.
 (۳) اگر برای ماده A ، شیب نمودار در گستره زمانی t_1 تا t_2 ، بزرگ‌تر از شیب نمودار در گستره زمانی t_2 تا t_3 ($t_3 > t_2 > t_1$) باشد، A فراورده واکنش است و $\frac{\Delta n}{\Delta t}$ برای آن، عددی مثبت است.
 (۴) اگر شیب نمودار برای ماده A ، 2 برابر شیب نمودار برای ماده D باشد، A و D فراورده واکنش‌اند و نسبت ضرایب استوکیومتری آنها در معادله واکنش، برابر 2 است.

۹۵- اگر زیرلایه‌های الکترونی در حال پر شدن در اتم‌های دو عنصر X و Y ، به ترتیب $3d$ (با a الکترون) و $4p$ (با b الکترون) و تفاوت a و b ، برابر 7 باشد، کمترین تفاوت عدد اتمی دو عنصر X و Y ، کدام است؟
 (۱) 6 (۲) 5 (۳) 4 (۴) 3

۹۶- نمودار داده شده، تجزیه ۴ مول گاز N_2O_5 را در یک ظرف ۲ لیتری نشان می دهد. اگر سرعت متوسط تشکیل گاز NO_2 در گستره زمانی ۱۰ تا ۳۰ ثانیه، برابر $5.4 \text{ mol.L}^{-1}.\text{min}^{-1}$ باشد، کدام مورد درست است؟ (واکنش، یک طرفه در نظر گرفته شود.)



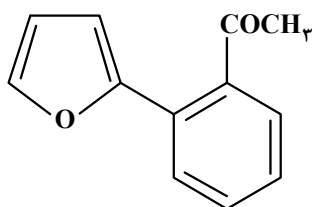
(۱) n_1 و n_2 به ترتیب می تواند ۲٫۲ و ۰٫۴ باشد.

(۲) اگر $n_1 - n_2 = 1.2$ ، سرعت واکنش در گستره زمانی ۱۰ تا ۲۰ ثانیه، برابر $6 \times 10^{-2} \text{ mol.L}^{-1}.\text{s}^{-1}$ است.

(۳) اگر $n_2 = 1$ ، مجموع غلظت فراورده ها در ثانیه ۲۰، برابر 7.5 mol.L^{-1} خواهد بود.

(۴) پس از کامل شدن واکنش، شمار مول های گازی درون ظرف، ۱٫۵ برابر شمار مول ها در آغاز واکنش است.

۹۷- کدام مورد درباره ساختار مولکول داده شده، نادرست است؟ ($H=1, O=16: \text{g.mol}^{-1}$)



(۱) دارای یک گروه عاملی کربونیل و یک گروه متیل است.

(۲) تفاوت شمار پیوندهای $C-H$ ، با شمار پیوندهای $C-C$ ، برابر ۳ است.

(۳) مجموع جرم اتم های اکسیژن، $3/2$ برابر جرم اتم های هیدروژن در ترکیب است.

(۴) شمار جفت الکترون های ناپیوندی روی اتم ها، ۲ برابر شمار اتم های کربنی است که عدد اکسایش صفر دارند.

۹۸- در هر زنجیر از یک نمونه پلی سیانواتن، میانگین شمار پیوندهای سه گانه، ۲ برابر میانگین شمار پیوندهای دو گانه در هر زنجیر از یک نمونه پلی استیرن است. اگر میانگین شمار مونومرهای سیانواتن در هر زنجیر از پلیمر آن، برابر

۱۸۰۰۰ باشد، میانگین جرم مولی پلی استیرن، برابر چند گرم است؟ ($H=1, C=12: \text{g.mol}^{-1}$)

(۱) 9.36×10^5 (۲) 6.24×10^5 (۳) 3.12×10^5 (۴) 1.56×10^5

۹۹- اگر در دمای اتاق، pH محلولی که از وارد شدن ۴۰ گرم از باز DOH (با درصد یونش یک) در ۲ لیتر آب مقطر تشکیل می شود، برابر 10.3 باشد، چند درصد از آن در آب حل شده است و شمار مول های یون هیدرونیوم در ۵۰۰ میلی لیتر

از این محلول کدام است؟ (از تغییر حجم آب بر اثر انحلال باز صرف نظر شود. $DOH = 200 \text{ g.mol}^{-1}$)

(۱) ۲۰، 2.5×10^{-11} (۲) ۱۰، 2.5×10^{-11}

(۳) ۲۰، 5×10^{-11} (۴) ۱۰، 5×10^{-11}

۱۰۰- با در نظر گرفتن دمای ثابت، کدام مورد درست است؟ ($\text{HCl} = ۳۶٫۵$, $\text{HI} = ۱۲۸$: g.mol^{-1})

(۱) اگر درجه یونش دو اسید HX و HA ، برابر باشد، با توجه به غلظت تعادلی آنها در محلول، همواره می توان قدرت اسیدی آنها را مقایسه کرد.

(۲) اگر در دو محلول جداگانه، مول های حل شده لیتیم اکسید، نصف مول های حل شده گاز هیدروژن کلرید در آب مقطر باشد، شمار یون های دو محلول با یکدیگر برابر است.

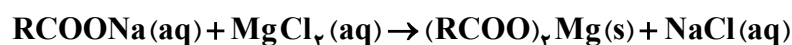
(۳) اگر شمار مول های حل شده باز قوی YOH ، در یک لیتر آب، با شمار مول های حل شده باز ضعیف XOH ، در دو لیتر آب برابر باشد، pH دو محلول، برابر است.

(۴) اگر جرم های برابر از دو گاز هیدروژن کلرید و هیدروژن یدید، به صورت جداگانه در ۱۰۰ میلی لیتر آب مقطر حل شوند، pH محلول HI ، کوچک تر است.

۱۰۱- اگر از واکنش ۰٫۰۶ مول صابون جامد دارای زنجیر هیدروکربنی سیر شده، با مقدار کافی محلول منیزیم کلرید،

۱۷٫۷ گرم رسوب تشکیل شود، شمار اتم های کربن در مولکول صابون کدام است و چند مول یون به حالت محلول

باقی می ماند؟ (معادله واکنش موازنه شود، $\text{H} = ۱$, $\text{C} = ۱۲$, $\text{O} = ۱۶$, $\text{Mg} = ۲۴$: g.mol^{-1})



(۱) ۰٫۰۶ ، ۱۷ (۲) ۰٫۱۲ ، ۱۸ (۳) ۰٫۱۲ ، ۱۷ (۴) ۰٫۰۶ ، ۱۸

۱۰۲- کدام مورد درست است؟

(۱) انحلال پذیر بودن عسل و گریس در آب، به وجود گروه هیدروکسیل در ساختار آنها وابسته است.

(۲) مخلوط آب و روغن و صابون همانند مخلوط اوره و آب، همگن است و هر دو نور را پخش می کنند.

(۳) نسبت شمار آنیون به کاتیون در پاک کننده های صابونی، با همین نسبت در پاک کننده های غیر صابونی، برابر است.

(۴) هنگام شستن لباس با پاک کننده های غیر صابونی در آب سخت، لکه های سفید رنگ ناشی از وجود یون های کلسیم و منیزیم روی سطح آنها تشکیل می شود.

۱۰۳- اگر تغییر جرم آند، در سلول گالوانی استاندارد «منیزیم - نقره»، نصف تغییر جرم کاتد در سلول گالوانی استاندارد

«منگنز - کروم» باشد و ۳٫۲۴ گرم به جرم کاتد در سلول «منیزیم - نقره» اضافه شود، به تقریب چند الکترون در

سلول «منگنز - کروم» مبادله شده است؟ (بازه های زمانی انجام واکنش ها، متفاوت در نظر گرفته شود.)

($\text{Mg} = ۲۴$, $\text{Cr} = ۵۲$, $\text{Mn} = ۵۵$, $\text{Ag} = ۱۰۸$: g.mol^{-1})

(۱) $۲٫۵ \times ۱۰^{۲۲}$

$E^\circ(\text{Ag}^+ / \text{Ag}) = +۰٫۸۰ \text{ V}$, $E^\circ(\text{Cr}^{۳+} / \text{Cr}) = -۰٫۷۴ \text{ V}$

(۲) $۱٫۵ \times ۱۰^{۲۳}$

$E^\circ(\text{Mn}^{۲+} / \text{Mn}) = -۱٫۱۸ \text{ V}$, $E^\circ(\text{Mg}^{۲+} / \text{Mg}) = -۲٫۳۷ \text{ V}$

(۳) $۵٫۰ \times ۱۰^{۲۲}$

(۴) $۲٫۰ \times ۱۰^{۲۳}$

- ۱۰۴- با توجه به اطلاعات زیر، که رفتار چهار فلز X, A, D و Z را در آزمایش‌های مختلف نشان می‌دهد، کدام مورد دربارهٔ مقایسهٔ قدرت کاهندگی آنها در مقایسه با Cu درست است؟
 - قدرت اکسندگی X^{2+} ، از قدرت اکسندگی Z^{2+} ، بیشتر است.
 - تنها سه فلز Z, D و X با محلول $CuCl_2(aq)$ ، واکنش می‌دهند.
 - با قرار دادن تیغه‌ای از فلز D در محلول‌های جداگانهٔ دارای یون‌های Z^{2+} ، A^{2+} و X^{2+} ، فقط فلزهای A و X رسوب می‌کنند.



- ۱۰۵- در کدام ترکیب، عدد اکسایش ۵ اتم کربن یکسان، و مجموع عدد اکسایش اتم‌های کربن دیگر، برابر ۱+ است؟



- ۱۰۶- واژهٔ شبکهٔ بلوری برای توصیف آرایش و منظم از در حالت جامد به کار می‌رود.



- ۱۰۷- در کدام دو گونه، ساختار لوویس، متفاوت، اما علامت بار جزئی اتم مرکزی، مشابه است؟



- ۱۰۸- یک مول CF_4 و یک مول CO_2 ، مطابق شکل و پس از باز شدن شیر (I)، تعادل گازی زیر را تشکیل می‌دهند. اگر

شیر (II) باز شود، در تعادل نهایی، مجموع شمار مول‌های CO_2 و CF_4 ، چند برابر شمار مول‌های COF_2 خواهد

بود؟ (حجم هر یک از ظرف‌ها، برابر یک لیتر و دما ثابت است).

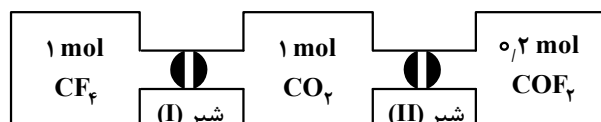


(۱) ۰,۵

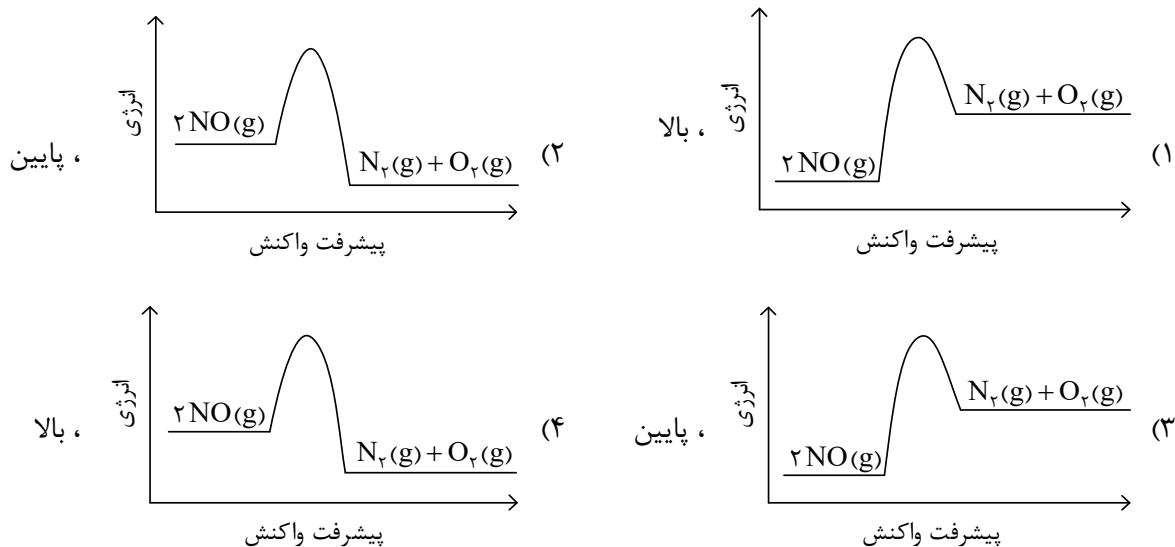
(۲) ۲

(۳) ۴

(۴) ۸



۱۰۹- نمودار «انرژی - پیشرفت واکنش» برای حذف آلاینده گاز NO در مبدل کاتالیستی بنزینی کدام است و این واکنش، در چه دماهایی بهتر انجام می‌شود؟



۱۱۰- تعادل گازی: $\text{H}_2 + \text{Br}_2 \rightleftharpoons 2\text{HBr}$, $\Delta H < 0$ ، در یک ظرف ۲ لیتری و با وجود یک مول از هر یک از مواد

شرکت کننده برقرار است. کدام مورد درباره این تعادل درست است؟

- (۱) با انتقال تعادل به ظرف ۵ لیتری، غلظت هر یک از مواد شرکت کننده، 0.4 برابر می‌شود.
- (۲) اگر با کاهش دما، 20 درصد به مول‌های فراورده اضافه شود، مقدار K ، 0.8 برابر می‌شود.
- (۳) با انتقال تعادل به ظرف یک لیتری، غلظت فراورده، نصف و تعادل در جهت رفت، جابه‌جا می‌شود.
- (۴) با افزایش دما، تعادل در جهت برگشت جابه‌جا شده و سطح انرژی واکنش دهنده‌ها، افزایش می‌یابد.